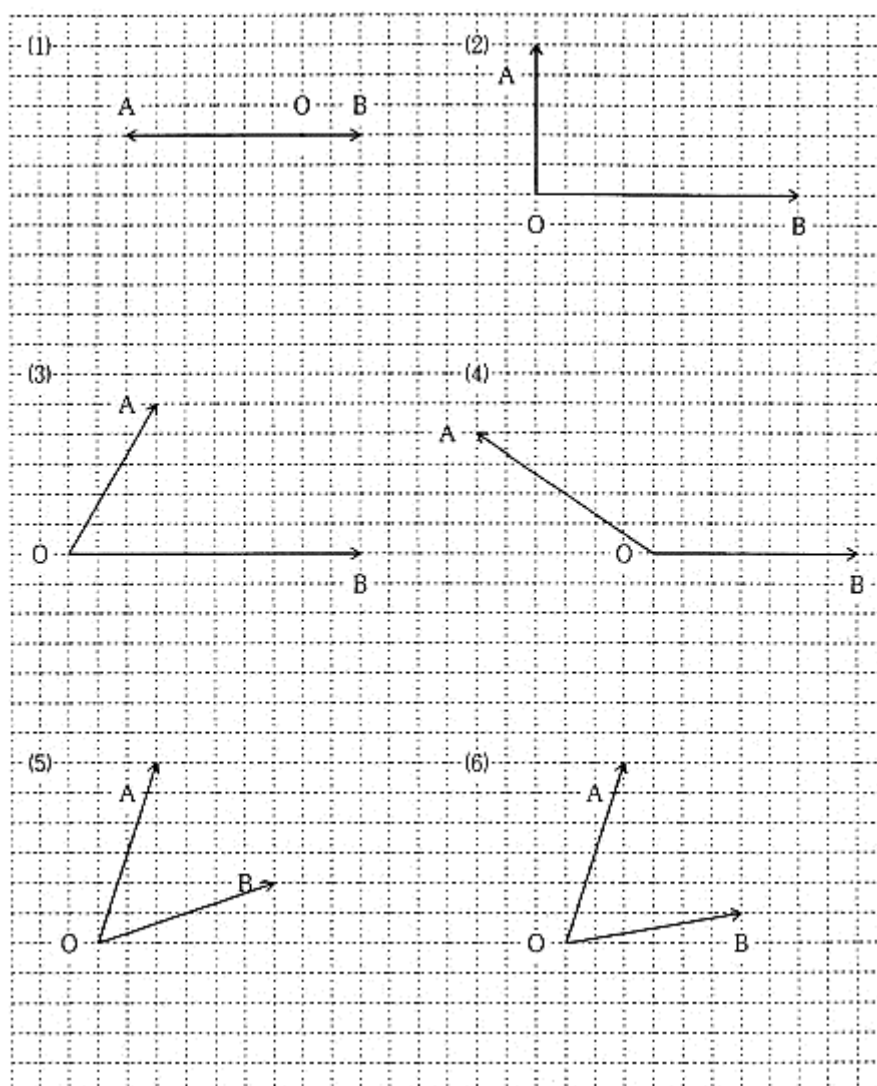


力の合成ワークシート

作図問題

年 組 名前 _____

下の図のO点に、力A、Bがはたらいている。それぞれの合力を矢印で図中に書き入れよ。補助線も残しておくこと。



力の合成ワークシート

発表カード

年 組 名前 _____

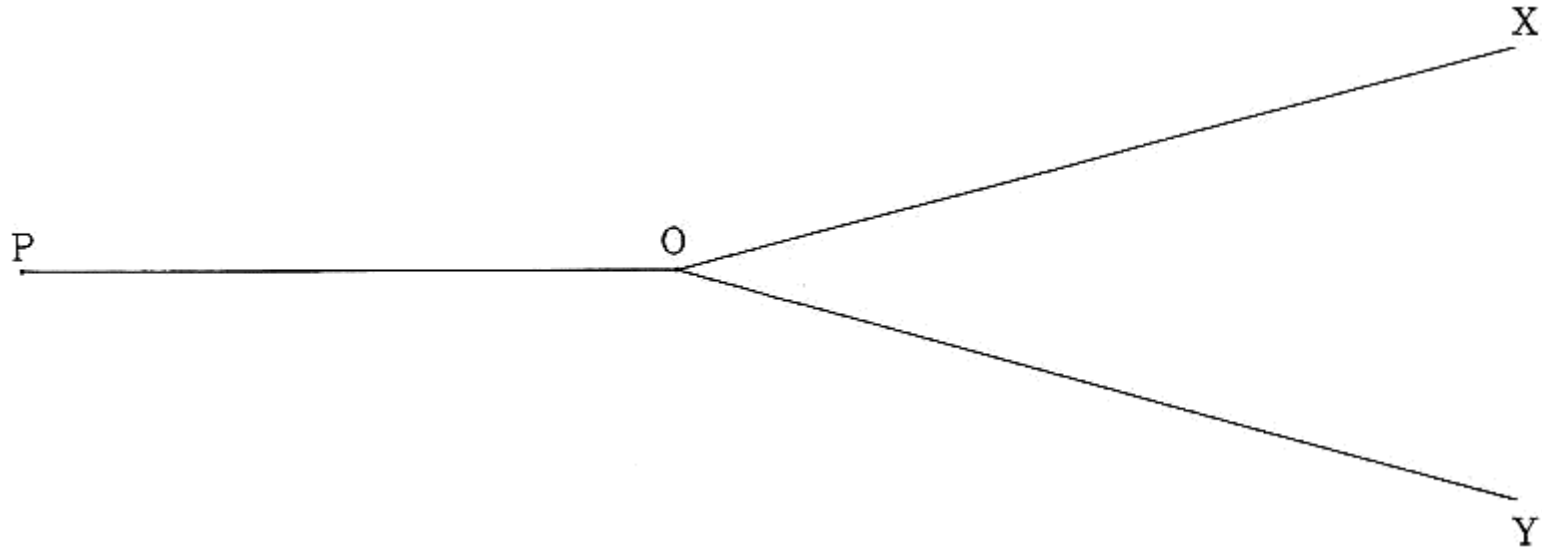
発表カード

発表カード

力の合成ワークシート

実験記録用紙 1

年 組 名前 _____

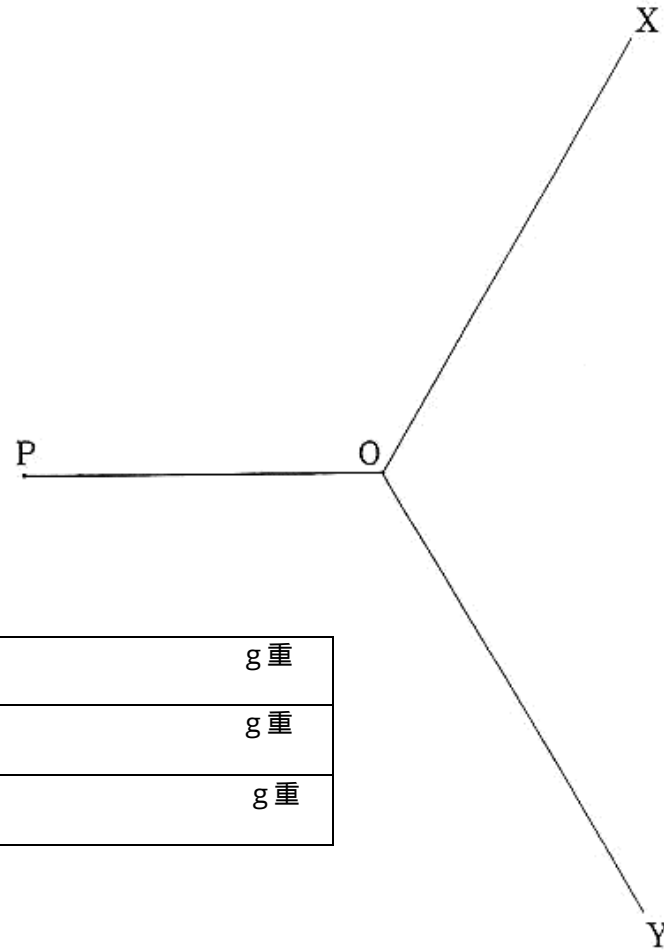


2つの力	A (OX方向)	g重
	B (OY方向)	g重
合力		g重

力の合成ワークシート

実験記録用紙 2

年 組 名前 _____



2つの力	A (OX方向)	g重
	B (OY方向)	g重
合力		g重

力の合成ワークシート

実験 _____ 記録用紙

年 組 名前 _____

a.

b.

c.

d.

e.

P

Q_1

Q_2

2つの力	A (OX方向)	g重
	B (OY方向)	g重
合力		g重

f.

h.

g.