

♪かくした数はいくつ？ワークシート

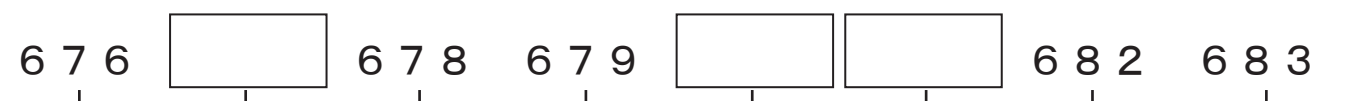
プリント1-①

年 組 名前 _____

もんだい1



もんだい2



もんだい3



もんだい4



もんだい5



もんだい6

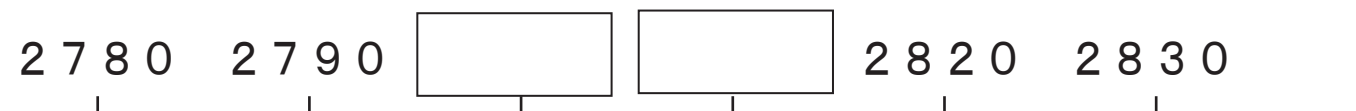


♪かくした数はいくつ？ワークシート

プリント1-②

年 組 名前 _____

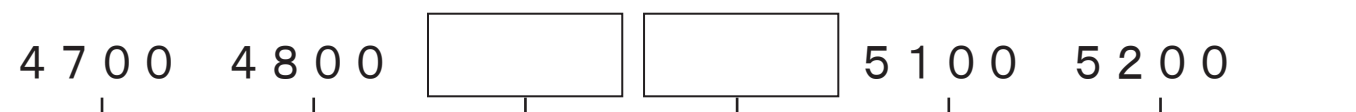
もんだい7



もんだい8



もんだい9



もんだい10



もんだい11



♪かくした数はいくつ？ワークシート

れんしゅう

年 組 名前

れんしゅう 1

2 1

2 2

2 4

れんしゅう 2

6 5

6 7

6 8

れんしゅう 3

5 8

5 9

6 1

れんしゅう 4

9 8

1 0 0

1 0 1

れんしゅう 5

2 0

3 0

5 0

れんしゅう 6

6 0

8 0

9 0

れんしゅう 7

4 5

5 0

6 0

れんしゅう 8

9 0

1 0 0

1 0 5

れんしゅう 9

1 2

1 4

1 8

れんしゅう 10

9 2

9 6

9 8

♪かくした数はいくつ？ワークシート

プリント2ー①

年 組 名前 _____

- ①コンピュータの画めんにしめされた↑を、数の線にうつしましょう。
- ②↑にあたる数を↑の下にかいてから、コンピュータに答えを入れましょう。

もんだい1



もんだい2



もんだい3



もんだい4



♪かくした数はいくつ？ワークシート

プリント2ー②

年 組 名前 _____

- ①コンピュータの画めんにしめされた↑を、数の線にうつしましょう。
- ②↑にあたる数を↑の下にかいてから、コンピュータに答えを入れましょう。

もんだい5



もんだい6



もんだい7



もんだい8

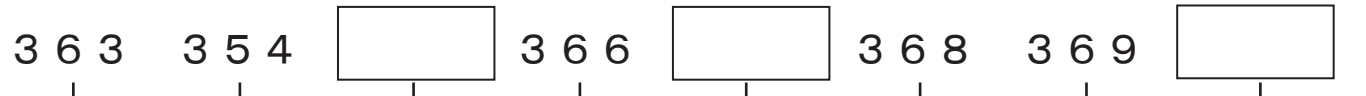


♪かくした数はいくつ？ワークシート

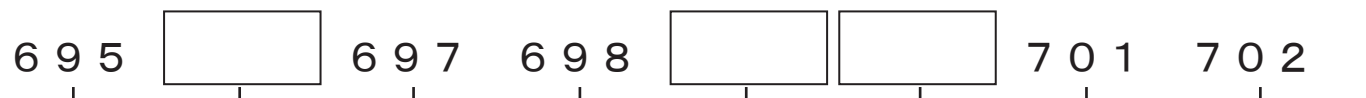
テスト1ー①

年 組 名前 _____

もんだい1




もんだい2



もんだい3



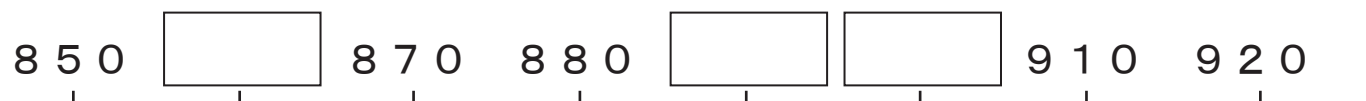
もんだい4



もんだい5



もんだい6



♪かくした数はいくつ？ワークシート

テスト 1-②

年 組 名前 _____

もんだい 7

3670 3680 3710 3720

もんだい 8

8990 9020 9030 9040

もんだい 9

4500 4600 4800 4900

もんだい 10

6700 6800 7100 7200

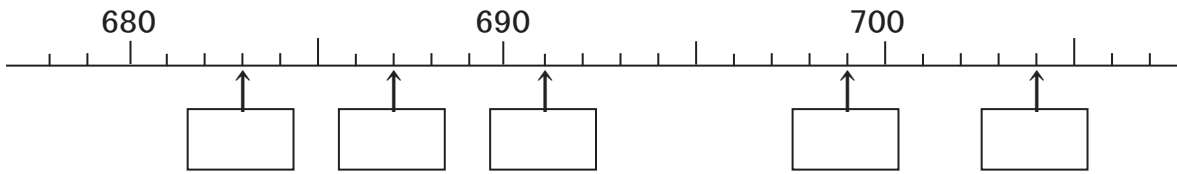
もんだい 11

6000 7000 8000 9000

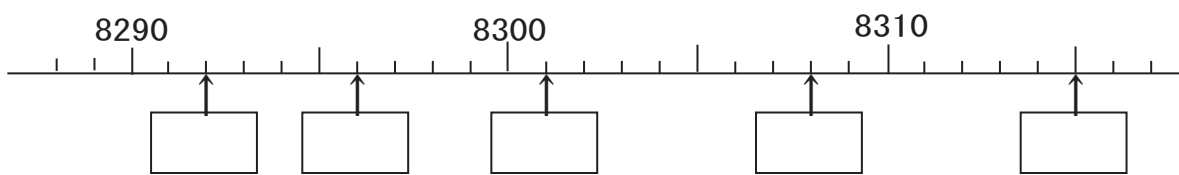
テスト 2

年 組 名前 _____

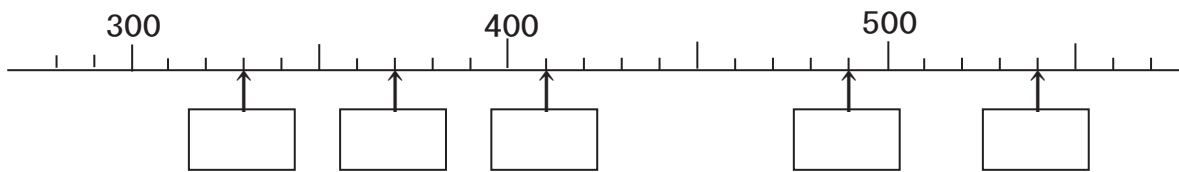
もんだい1



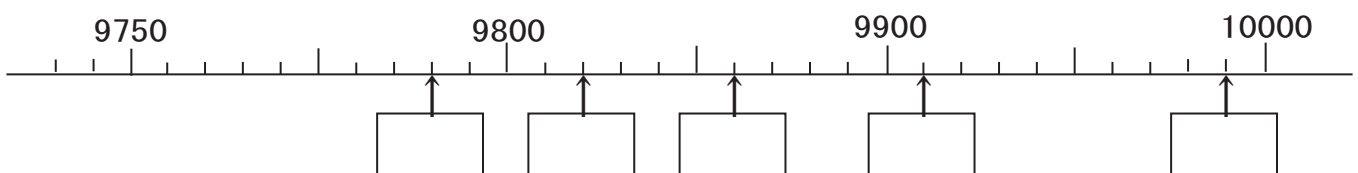
もんだい2



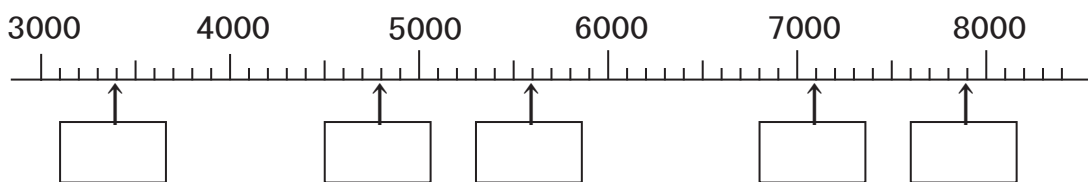
もんだい3



もんだい4



もんだい5



カラスのプリント

年 組 名前

これは、きみがつかまえたカラスの数をかいておくためのプリントです。
勉強の途中で、コンピュータから、カラスの数を「カラスのプリント」に書くように
言われます。そのとき、その数を の中に書いて、数の線にも↑で書きましょう。

先生も、君がつかまえたカラスの数を見せてもらうのを楽しみにしています。



1回目

 わ

2回目

 わ

3回目

 わ

4回目

 わ

↑を書き入れてね。