

数学診断テスト ()年 氏名()

●必ず計算の途中式などを書き残しておきましょう。

1. 次の計算をしましょう。(計算中に使った式や図は必ず書き残しておきましょう。)

(1) $5 + 3$ (2) $8 - 4$ (3) $-2 + 2$ (4) $-2 - 6$

(5) $6 - 9$ (6) $-7 + 2$ (7) $2 - 5$ (8) $-5 + 9$

(9) $0 - 3$ (10) $-3 - 2$ (11) $-2 + 5$ (12) $-5 + 5$

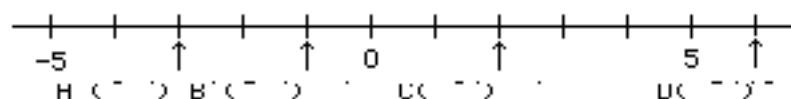
(13) $-4 + 3$ (14) $0 - 9$

2. 次の口にあてはまる記号または、数を入れましょう。

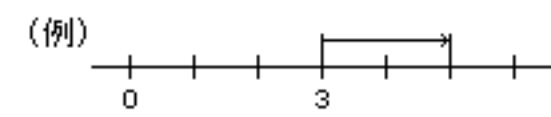
(15) $7 - (-2)$ = 7 2 =	(16) $(-6) - (-5)$ = (-6) 5 =	(17) $-3 + (-4)$ = -3 4 =
------------------------------------	--	--------------------------------------

(15) $-2 - (-7)$ = -2 7 =	(16) $1 + (-8)$ = 1 8 =	(17) $3 - (-6)$ = 3 6 =
--------------------------------------	------------------------------------	------------------------------------

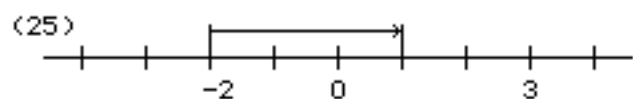
3. 次の数直線上でA, B, C, Dにあたる数はいくつでしょう。



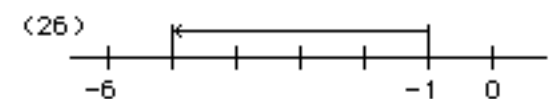
4. 次の数直線上に表された矢印はどのような計算を表しているのでしょうか。式を答えましょう。



(式) $3+2=5$




(式)

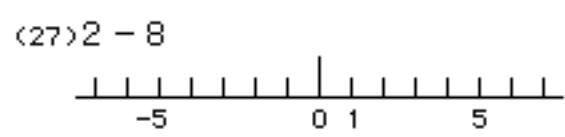


(式)

5. 数直線を使って次の計算をしましょう。



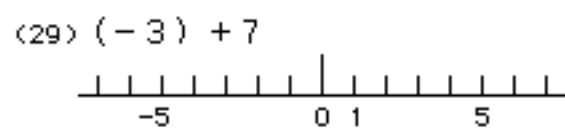
$1 + 5 = 6$



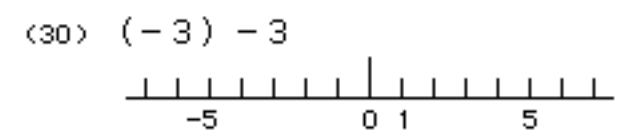
(式)



(式)



(式)



(式)

6. 次の計算をしましょう。ただし計算途中の式を書き残しておきましょう。

(31) $8 + (-3)$

(32) $4 - (-2)$

(33) $-4 + (-5)$

(34) $-7 - (-7)$